

נלקח מתרגול (א06)-ישר המספרים

א. סמנו על ישר המספרים את

השברים הבאים :

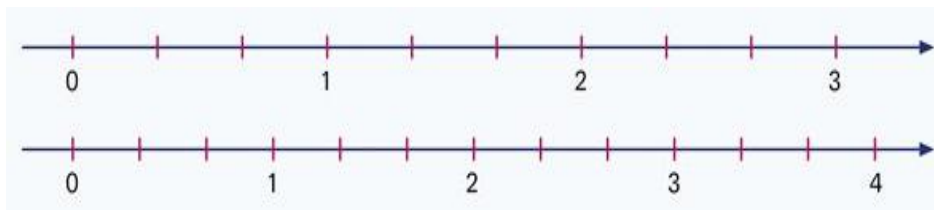
$$\frac{9}{3}$$

$$\frac{12}{3}$$

$$\frac{8}{3}$$

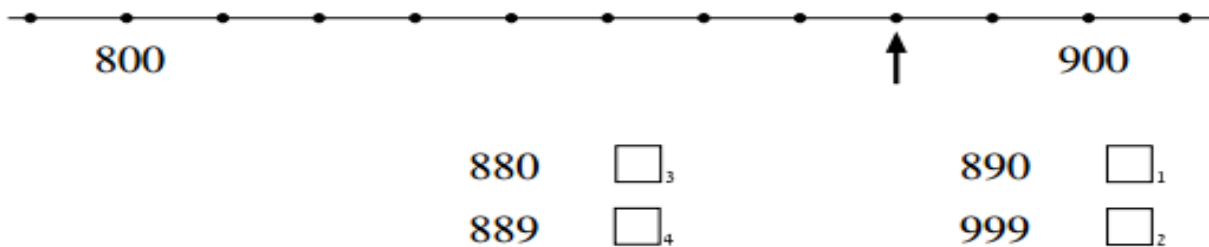
$$\frac{2}{3}$$

$$2\frac{2}{3}$$

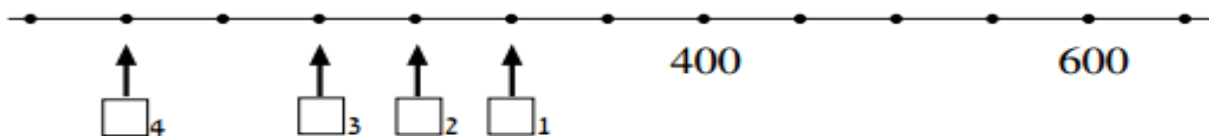


נלקח מתרגול (ב06)- ישר המספרים

איזה מספר מתאים לנקודה המסומנת בחץ על ישר המספרים?



איזה חץ מצביע על הנקודה המתאימה למספר מאה?
סמנו בריבוע שמתחת לחץ.



לפניכם קטע מישר-המספרים.



א. במקום האות **ב** צריך לכתוב את המספר:


990 ₄ 950 ₃ 910 ₂ 901 ₁

ב. במקום האות **א** צריך לכתוב את המספר:

880 ₄ 850 ₃ 800 ₂ 0 ₁

נלקח מתרגול (ג06)-ישר המספרים

1. דניאל גר בקומה השניה בבניין בן 5 קומות. בביתו יש מעלית ומדרגות, אתמול הוא החליט לעלות במדרגות. בין כל קומה ישנם סה"כ 12 מדרגות דניאל עלה לקומה הראשונה והמשיך לשניה, לאחר עוד 4 מדרגות שהוא עלה – התעייף, והחליט לנוח.



- ציירו את הנתונים על ציר המספרים
- מהו החלק השלם? _____.
- כתבו שבר כמה מדרגות עלה דניאל? _____ סמנו על ישר המספרים במקום המתאים.
- כתבו שבר כמה מדרגות נשאר לו לעלות? _____ סמנו אותו על ישר המספרים.

2. השלימו את המספרים המתאימים על ציר המספרים

