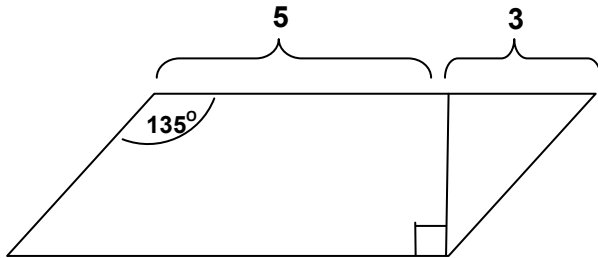


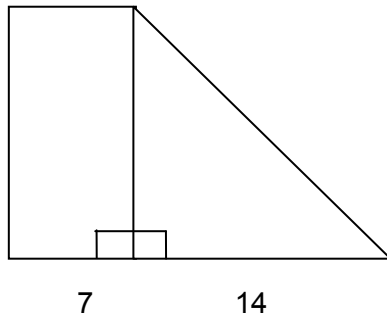
שטח מקבילית טרפז ומצולע כללי

נלקח מתרגול (א05)-שטח מקבילית טרפז ומצולע כללי

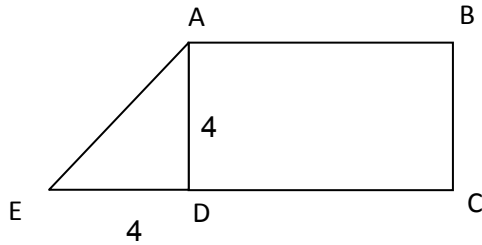
א. חשבו את שטח המקבילית



ב. איזה מהשטחים S_1 או S_2 יותר גדול



נלקח מתרגול (05ב)-שטח מקבילית טרפז ומצולע כללי



א. מרובע ABCD מלבן.

שאר הנתונים בשרטוט.

שטח טרפז ABCE 34 סמ"ר.

חשבו את אורך בסיסי הטרפז

ב. חשבו את שטח המקבילית

