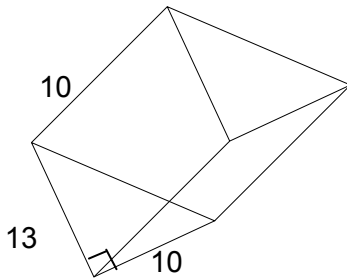


מנסרה משולשת ישרה

נלקח משיעור (13) - מנסרה משולשת ישרה

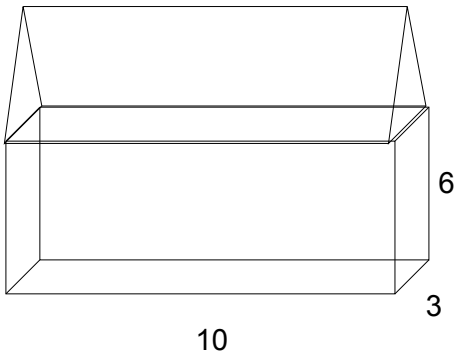
א. חשבו מהו הנפח ושטח הפנים של המנסרה המשולשת הבאה:



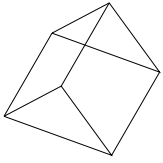
נלקח מתרגול (13א) - מנסרה משולשת ישרה

נתון שרטוט בית מוקטן בציור, כל המידות הן בס"מ.

חשבו את נפח כל הבית, אם נתון שגובה הגג הינו 2 ס"מ



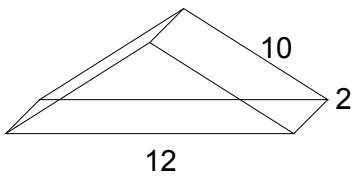
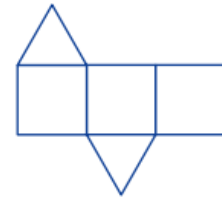
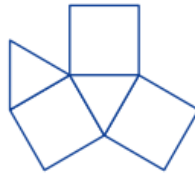
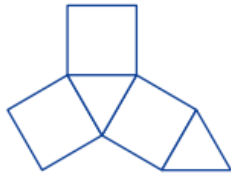
נלקח מתרגול (13ב)- מנסרה משולשת ישרה



ב. נתונה המנסרה המשולשת שבשרטוט, וכל המקצועות שלה שווים זה לזה.

חשבו את נפח המנסרה

אילו מהפריסות המוצעות כאן הן פריסות אפשריות למנסרה?



ג. נתונה המנסרה הבאה :

שרטטו פריסה של המנסרה